

الاسم اللقب

السند 1 : توجّهت سامية ومنى و صديقتهما سمية إلى محلّ لبيع الألعاب .
هذه نقود سامية



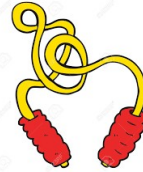
أساعد سامية على عد نقودها

مع3

السند 2 : قررت سامية شراء لعبتين من بين اللّعب التّالية :



كرة
800 مي



حبل للقفز
210 مي



دمية
565 مي

ابحث عن ثمن البضاعتين اللتين يمكن لسامية شراؤهما

كم يبقى لها ؟

مع1

السند 3 : تملك منى 857 مي وزادها والدها قطعتين من فئة 20 مليم
أمثل نقود منى بأقل عدد ممكن من النقود.

مع2

مع3

قرّرت منى شراء لعبتين من بين اللّعب التّالية :



لعبة موسيقية
254 مي



كرة السلة
430 مي



شطرنج
950 مي

أبحث عن الثمن الذي ستدفعه منى.

مع1

كم بقي لها؟

مع 2

السند 4 : كسرت سمية الحصالة فوجدت فيها 745 مي

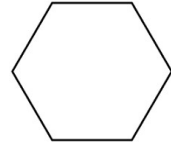
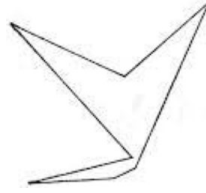



أكمل تمثيل هذا المبلغ

شرت سمية مربكات ب 520 مي. كم بقي لها؟

مع 3

السند 5 : وجدت سمية الأشكال التالية مرسومة على المربكات.



مع 1

مع 2

أضع علامة على الشكل الذي له 4 أضلاع.
أرسم شكلا له 3 أضلاع

مع 4

أكمل رسم الشكل التالي ليصبح ذا 5 اضلاع



مع 4

السند 6 : جمع الاطفال ما تبقى لهم من نقود و أرادوا شراء قارورة عطر لمعلمهم ب 755 مي.

مع 4

أضع علامة أمام السؤال المناسب للوضعية وأجيب عنه

كم بقي لهم

مع 5

ما هو ثمن قارورة العطر



كم ينقصهم لشراء قارورة العطر



الجواب.....

مع 5	مع 4	مع 3	مع 2	مع 1	
0	0	0	0	0	---
0	2	1	1.5	1.5	+--
2	2	2	3	3	++-
5	3	3	4.5	4.5	+++