

تقييم في مادة الإيقاظ العلمي  
الثلاثي 3

الاسم واللقب: .....  
الثانية: .....

مع 1

التمرين عدد 1 :

التعلّية-1-

أتمم ب: أشدّ صلابة / أكثر لينا

\*باب المنزل ..... من نبتة الفول.

\*أوراق الشجرة ..... من الكرسي .

مع 1

التمرين عدد 2:

التعلّية-2-

ألون الجسم الساقط على الأرض.



مع 2

التمرين عدد 3:

التعلّية-3-

أكمل بالتعليل المناسب

\*الحليب يأخذ شكل الإناء الذي يحويه لأنّه .....

مع 1

التمرين عدد 4:

التعلّية-4- أكمل بما يناسب من العبارات التّالية :

قوة دفع

قوة عضلية

قوة جذب

تتحرك

سقطت

فتدفعها

مع 2


\*سلّطت الأرض ..... على التّفاحة ف..... على الأرض.

\*يسلّط رامي ..... لجمع الأوراق اليابسة.

مع 1

\*تسلّط سناء ..... على النّقالة ف..... الى الأمام

مع 2



التعليمة-5- : أتمم الفراغات بالمفردات المناسبة:

دفعها


جذبها

غير شكله

\* سلط عامر قوّة على الخشبة ف.....

\* سلط الحصان قوّة على العربة ف.....

أخذ سامي يلعب بالصلصال فسلط عليه قوّة عضلية ف.....



تمرين عدد 6 :

التعليمة-6- أصلح الخطأ  
الصلصال مادة سائلة.

.....\*

تمرين عدد 7: أرادت سناء أن تسكب الماء على ورقة ثم تضعه في الثلاجة ليبرد و  
يصبح قطع ثلج.

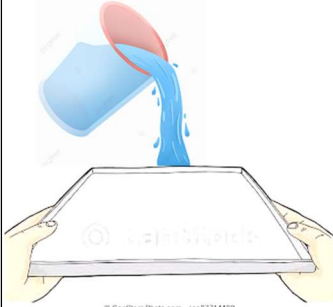
هل ما فعلته سناء صواب أو خطأ.

التعليمة-7-1

أكتب: صواب/خطأ

التعليمة-7-2

\*أعلّل جوابي - لأنّ.....




تمرين عدد 8:

التعليمة-8-1: أتمم الفراغات ب: الرّفير/الشّهيق

\*يرتفع الصدر عند..... وينخفض عند.....

التعليمة-8-2: أكتب: صواب/خطأ

-في عملية الرّفير يدخل الهواء الملوّث إلى الرّئتين .

-أغلق نوافذ غرفتي باستمرار .

- عندما أصاب باختناق تبقى عملية التنفس طبيعيّة.

التعليمة -8-3

\*أصلح الخطأ في الجمل السابقة إن وُجد :

.....

.....

.....