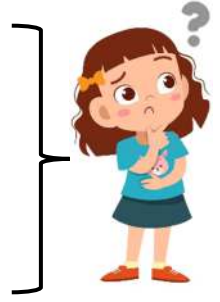



2 حساب ذهني سنة ثانية

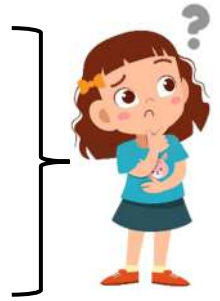
مَا هُوَ ضِعْفُ 48؟
.....
مَا هُوَ ضِعْفُ 50؟
.....
مَا هُوَ ضِعْفُ 25؟
.....



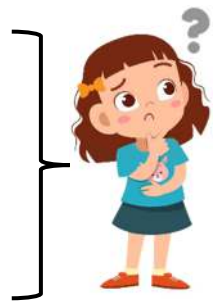
مَا هُوَ الْعَدْدُ الَّذِي يَسْبِقُ 523؟
.....
مَا هُوَ الْعَدْدُ الَّذِي يَسْبِقُ 600؟
.....
مَا هُوَ الْعَدْدُ الَّذِي يَسْبِقُ 811؟
.....



مَا هُوَ الْعَدْدُ الَّذِي يَأْتِي مُبَاشَرَةً بَعْدَ 426؟
.....
مَا هُوَ الْعَدْدُ الَّذِي يَأْتِي مُبَاشَرَةً بَعْدَ 926؟
.....
مَا هُوَ الْعَدْدُ الَّذِي يَأْتِي مُبَاشَرَةً بَعْدَ 300؟
.....



مَا هُوَ أَكْبَرُ عَدْدٍ ذُو 3 أَرْقَامٍ؟
.....
مَا هُوَ أَصْغَرُ عَدْدٍ ذُو 3 أَرْقَامٍ؟
.....
مَا هُوَ أَكْبَرُ عَدْدٍ يَتَكَوَّنُ مِنْ رَقْمَيْنِ وَ عَدْدٍ
عَشْرَاتِهِ 6؟
.....



2 حساب ذهني سنة ثانية

مَا هُوَ الْفَارِقُ بَيْنَ 100 و 120
مَا هُوَ الْفَارِقُ بَيْنَ 157 و 164
مَا هُوَ الْفَارِقُ بَيْنَ 150 و 175



عَدَدٌ يَأْتِي مَحْصُورٌ بَيْنَ 157 و 190 هُوَ؟
عَدَدٌ يَأْتِي مَحْصُورٌ بَيْنَ 189 و 191 هُوَ؟
عَدَدٌ يَأْتِي مَحْصُورٌ بَيْنَ 320 و 333 هُوَ؟



مَا هُوَ الْفَارِقُ بَيْنَ 85 و 90؟
مَا هُوَ الْفَارِقُ بَيْنَ 115 و 130؟
مَا هُوَ الْفَارِقُ بَيْنَ 300 و 400؟



أَحْسِبُ النَّتِيجَةَ التَّالِيَةَ $200 + 120 =$
أَحْسِبُ النَّتِيجَةَ التَّالِيَةَ $120 - 320 =$
أَحْسِبُ النَّتِيجَةَ التَّالِيَةَ $600 - 800 =$

