


العدد 10 - القطعة النقدية 10 مي




تحتفل رانية اليوم بعيد ميلادها و بهذه المناسبة أعدت لها أمها كعكة لذيذة و شهية و وضعت عليها 9 شموع حمراء و شمعة واحدة زرقاء.

(1) ألون الشمعات حسب ما ورد في السند :



(2) أحسب العدد الجملي للشموع : = +

(3) أصنف عناصر كل مجموعة حسب الشكل و أعمر اللافتات ثم أكتب العملية المناسبة تحت كل مجموعة.




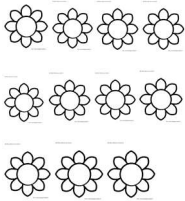


..... = ...+...

..... = ...+...

..... = ...+...

أزيد أو أ حذف ليصبح عدد الزهورات على قدر عمر رانية :



كسر أخوها أحمد حصالته و شرى لعبة لريم فبقي له القطع النقدية التالية .

(4) أحيط بخط مغلق مبلغا قيمته 10 مي :

