


إيقاظ علمي السنة الثانية - الاسم واللقب:.....  
تقييم مكتسبات التلاميذ في نهاية السداسي الأول


**السند 1 :**

يوم الأحد الفارط، نظم نادي التايكواندو رحلة ترفيهية إلى مدينة زغوان .  
اجتمع أعضاء الفريق أمام مقرّ النادي في الصباح الباكر.  
**التعلّيمية 1:** أتأمل المشهد و أكمل ب: يغطّي / لا يغطّي  
الحافلة.....جزء من مقر النادي بالنسبة لرحاب



**السند 2**

أثناء الرحلة شاهد الأطفال قطع أغنام و أبقار ترعى في السهول الشاسعة  
يحرسها كلب ضخّم أما الراعي فكان مستلقيا تحت ظل شجرة الزيتون  
يشاهد حيواناته عن قُرب .  
**التعلّيمية 2:** ألوّن الحيوان الذي يمكن أن ينفعنا بجلده  
**التعلّيمية 3:** أضع في إطار الحيوان الذي يمكن أن ينفعنا بلحمه .



**السند 3:**

أخذت الحافلة تطوي الأرض طيّاً حتى وصلنا جبل زغوان الشاهق  
**التعلّيمية 4:** أصلح الخطأ  
الصنوبر شجرة مغروسة ←.....

## التعليمة 5: أشطب الدّخيل في كل مجموعة:

نباتات تلقائية	نباتات مزروعة	نباتات مغروسة
زعر	اجاص	لفت
بطاطا	طماطم	فلفل
سلق	زيتون	نخيل


صعدنا الجبل الشاهق فوجدنا أصنافا مختلفة من النباتات. تعجبت سلمى و قالت " من يرعى هذه النباتات على هذا الارتفاع الشاهق؟ أجابها السيد حازم :  
" لا تحتاج هذه النباتات إلى عناية لأنها .....

## التعليمة 6: أكمل الجملة.

اقترب وقت الفطور فأخرجنا ما في حقائبنا من طعام وبدأ سليم في الأكل دون غسل يديه فأثبه صديقه رفيق قائلا:  
.....  
.....

## التعليمة 7: أكمل الجملة.

السند4: تنقلت بنا الحافلة الى محمية "فريقيا" وهي حديقة حيوانات كبيرة تحوي حيوانات متوحشة فتساءلت مريم " هل تصلح هذه الحيوانات للعيش معنا في منازلنا؟"



## التعليمة 8: ألون الحيوانات البرية



## السند 5


بعد خروجهم من حديقة الحيوانات "فريقيا" لاحظوا قطة رابضة بين الأحرار، حاول أحمد اللعب معها ولكنه لاحظ أن سلوكها غير عادي و يمكن أن تكون مصابة بداء الكلب .

من أعراض داء الكلب :

- احمرار العينين
- شراسة الطبع
- هدوء الطبع
- جوع الحيوان
- سيلان لعابه

### التعليمة 9 : أشطب الخطأ

التعليمة 11: أتأمل مشهد الأشجار على قارعة الطريق و أكمل ب: أكبر / أصغر



سلوى

تبدو الشجرة رقم 4..... من الشجرة رقم 1 بالنسبة لسلوى  
التعليمة 12 : أتم بما يناسب أقصر/ أطول  
المسافة الفاصلة بين سلوى والشجرة رقم 1..... من المسافة  
الفاصلة عن الشجرة 2

جدول الاعداد

معيان التميز		معايير الحد الأدنى				معيان التميز
معيان 3	معيان 3	معيان 2 ج	معيان 2 أ	معيان 1 ج	معيان 1 ب	
2.5	2.5	0	0	0	0	انعدام التملك
		1	1.5	1	1.5	دون التملك
		2	3	2	3	التملك الأدنى
5		3	4.5	3	4.5	التملك الأقصى