

الاسم و اللقب :	تقييم الثلاثي الأول في مادة الرياضيات	السنة الأولى
-----------------	--	--------------



يوم العطلة الأسبوعية ، خرجت زينب مع صديقاتها للعب في حديقة الحي .

أحيط بخطّ مغلق مجموعة الأطفال :

أكتب تنتمي أو لا تنتمي

- الشجرة.....إلى مجموعة الأطفال.

- العصفورإلى مجموعة الأطفال.

أرسم كرة في اليد اليسرى لريم

أرسم قطعة تحت الشجرة.

أشطب الخطأ .

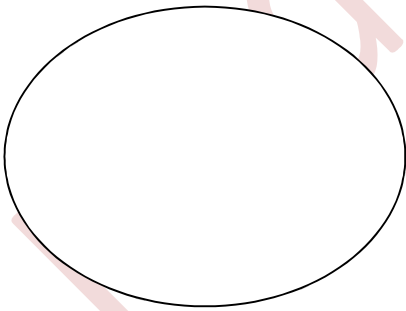
السلحفاة على يمين على يسار ريم

* أحيط العصفور بخطّ مفتوح و الشجرة بخطّ مغلق.


* أحيط الشمس بخطّ مغلق.

جمعت ريم ورودا من الحديقة .

التعليمة: أرسم ورودا على قدر عدد الفتيات وأربطها بلافتة مناسبة.



أراد الأطفال أن يأكلوا قطع مثلجات



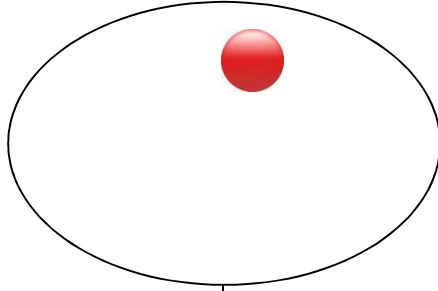
أقلّ من

أكثر من

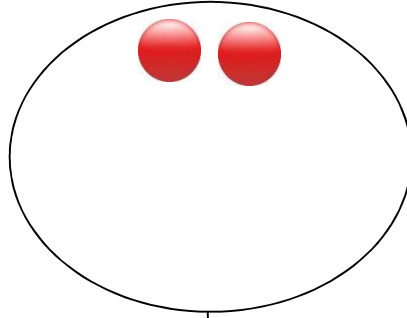
أكتب

المثلجاتعدد الأطفال.

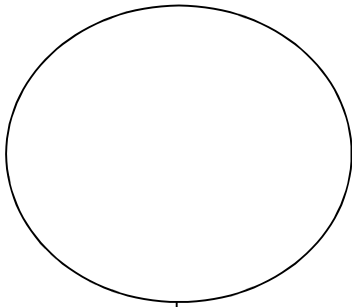
أحذف أو أضيف عناصر لأحصل على العدد المطلوب :



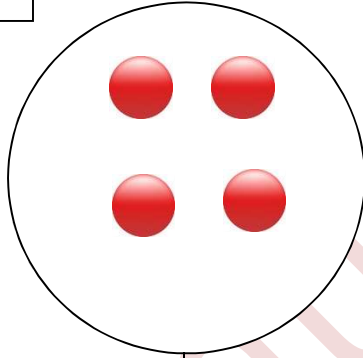
9



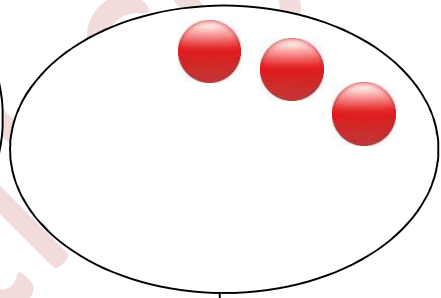
7



5



2



8

في المساء عادت ريم إلى المنزل و دخلت إلى غرفة أخيها .

وجدت ريم هذه الأشياء على المكتب.



أكتب عدد عناصر مجموعة الأقلام في اللافنة.

أخذت ريم لعبة لتلعب.

أصنف اللّعب حسب خاصية أختارها.



MadrasahSatii.com