



سَمِعَ قُرْشًا فَوْقَ سُورَةِ الْعُضْبُورِ الَّذِي هُوَ أَعْلَى الدَّارِ. لَوْنُ مَوَدَّةِ الطَّلَازَةِ الَّتِي هِيَ أَشْفَلُ السَّحَابِ.



ارْتَسِمْ عَلَامَةً (X) تَحْتَ سُورَةِ الطَّلَازِ الَّذِي هُوَ أَشْفَلُ السَّحَابِ.

ارْتَسِمْ عَلَامَةً (X) تَحْتَ سُورَةِ الطَّلَازِ الَّذِي هُوَ أَشْفَلُ السَّحَابِ.



ارْتَسِمْ سَلْتَةً أَشْفَلُ سُورَةِ الْجَوَارِيحِ.

ارْتَسِمْ عَلَامَةً أَشْفَلُ الشَّجَرَةِ.

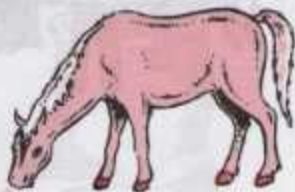


أَيْنَ تُوجَدُ السَّاعَةُ بِالنِّسْبَةِ لِلطِّفْلِ فِي الصُّورَةِ الْأُولَى ثُمَّ فِي الصُّورَةِ الثَّانِيَةِ ؟



لَا جَعَلَ مَا هُوَ أَمَامَ السَّيَّارَةِ دَاخِلَ خَطِّهَا مُعَاكِفِي

لَيُؤَدُّ سُبُورَةَ الْغَائِبِ الَّذِي هُوَ وَرَاءَ الْقَيْدِ .



أَنْ تُسَمَّ بِبَيْعَتِهِ وَرَاءَ سُبُورَةِ الدَّجَاجَةِ .

أَنْ تُسَمَّ أَعْشَابُهَا أَمَامَ سُبُورَةِ الْجَمَلِ .



لَوْ كُنْتَ تَمَسَعُهُ هَذَا التَّمْرِيحِ أَذْكَرُ أَيْنِ  
تَوْجَدُ الْغَائِزَةَ وَالرَّافِئَةَ بِالنَّسَبَةِ إِلَيْكَ .



أَيْنَ تَوْجَدُ الزَّهْرَةَ ؟ وَالْكُرَّةَ  
بِالنَّسَبَةِ إِلَى الظُّفْلَةِ ؟



أَرَسْمُ عَلَامَةِ (v) أَعْلَى صُورَةِ الْحَشَرَةِ  
الَّتِي فِيهَا عَلَى يَمِينِ الْعَبْدَةِ .



يَرَى صُورَةَ الْجِلْمِ الَّذِي هُوَ عَلَى يَسَارِ  
صُورَةِ الْخُرُوفِ .



سَعِ مَلْمَسًا أَعْلَى صُورَةِ الشَّخْصِ الَّذِي  
هُوَ عَلَى يَسَارِ الْبَيْتِ الْقَائِمَةِ .



سَقُونَ سَعْنَا عَلَى يَمِينِ الْكَلْبِ .



أَيُّ الْعُصْفُورَيْنِ أَبْعَدُ عَنِ الْفَلْعِ؟



أَيُّهُمَا أَقْرَبُ مِنَ الشَّجَرَةِ كَلِمَتُ أُمِّ الْعَطْفَلِ؟



لَوْنُ أَقْرَبِ عُصْفُورٍ مِنَ الشَّجَرَةِ



سُجَّ عَلَامَةُ (١) تَحْتَ أَبْعَدِ بَلِيمَيْنِ عَنِ بَابِ الْمَدْرَسَةِ



رَبِّبِ السَّافِرِينَ الَّذِينَ فَمَ فَرَّتِ الْعَاطِلَةُ  
حَسَبَ بَعْدِهِمْ عَنِ بَابِهَا الْعَالِيَةِ



رَقِيبِ اللَّاعِبِينَ حَسَبَ قُرْبِهِمْ مِنَ الْمُرْتَمَى  
يُرْوِضُ أَرْقَامَ جَدِّوَهُمْ (١-٢-٣-٤)

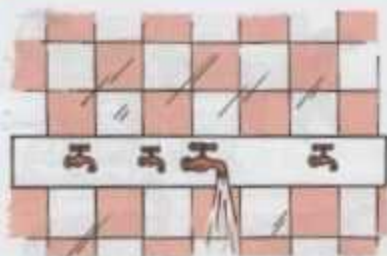




أَيُّ الْإِطْلَاقَيْنِ أَبْعَدُ عَنِ الْإِمَارِ الْكَبِيرِ؟



أَيُّ الشَّجَرَتَيْنِ أَقْرَبُ مِنَ الْعَلِيمِ؟



اجْعَلِي أَصْعَقِيَّتَيْنِ الْكَثِيرَيْنِ لِهَمَّا نَفْسُ الْبُعْدِ عَنِ  
الْخَيْبَةِ الْكُبْرَى تَحْتَهُمَا مَاءً.




مَعَ عَلَامَةٍ قَرِيبِ الزَّهْرَيْنِ الْقَلِيلَيْنِ لِهَمَّا  
نَفْسُ الْبُعْدِ عَنِ الشَّجَرَةِ.



ارِيسِمِي بِيْزْنَمَاتِهِ ثَالِثَةً يَكُونُ لِهَمَّا نَفْسُ بَعْدِ  
الْبُرْتَقَالَةِ الْأُولَى عَنِ الثَّانِيَةِ.



ارِيسِمِي كُرَةً لَهَا لُحْسٌ بَعْدِ الْكُرَةِ الصَّغِيرَةِ  
مِنَ الْكَبِيرَةِ.




كيف هي التفاحة التي هي عنف بيديك بالانشية  
الى التفاحة الوسطى؟ والجب عن يسارها؟

تأمل السمكة الوسطى وأذكر أية  
السمكين (١، ٢) أكبر منها .



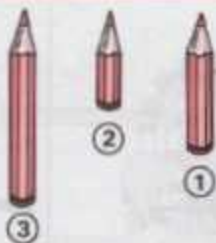
لقد تابت أصغر منزل .

مع ملصقا على ظهر أكبر الكلاب .




ارسم تحت كل شكل شكلا أكبر منه .

ارسم تحت كل صورة صورة أصغر من  
أصلها .



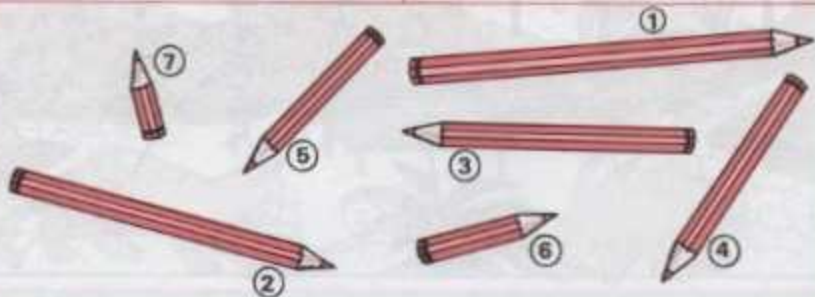
اجعل علامة (x) تحت أقصر مقصين.

أي الأعلام أطول؟  
أي الأعلام أقصر؟



لوز أطول من هذو الأوتوال.

أرسم علامة بجانب أقصر ذيبي من  
ذ بقول هذو الحيوانات.



رتب هذو الأعلام حسب أطولها من الأقصر إلى الأطول.