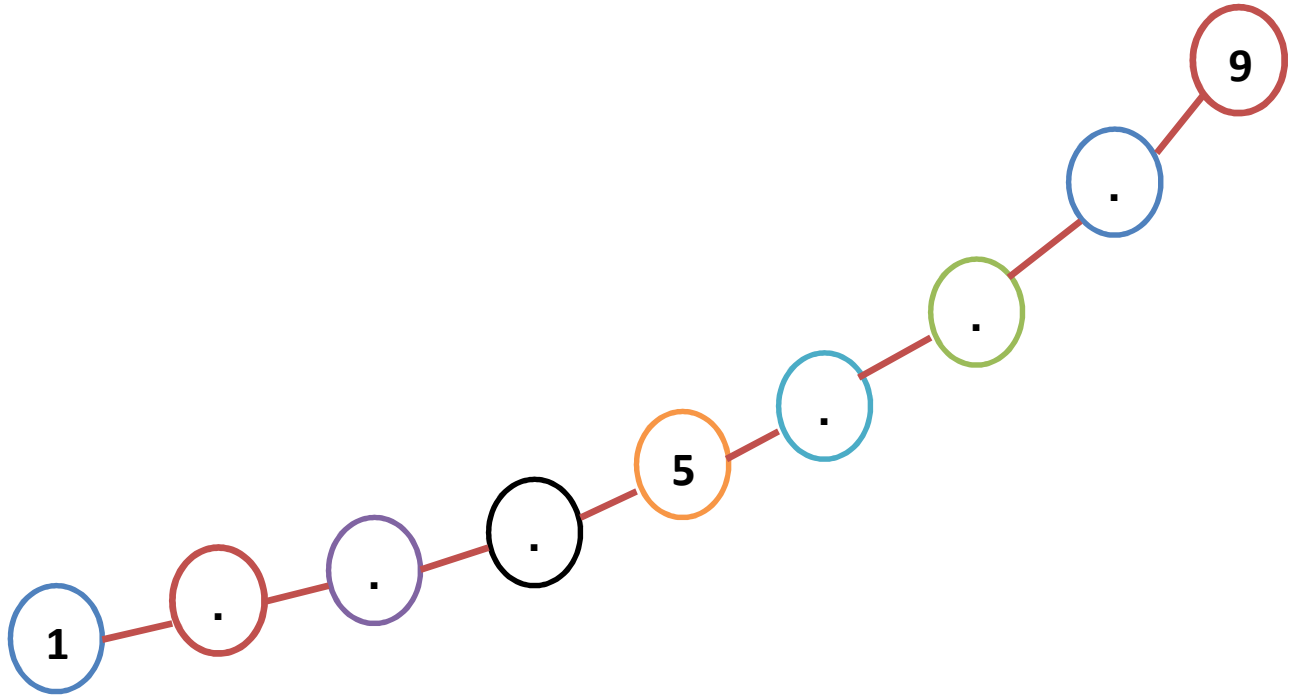



تقييم السداسي الثاني في النشاط المنطقي الرياضي - القسم التحضيري

1- أرتب ترتيبًا تنازليًا :



2- أصل كل بنينة بزهرة



أ- أحسب عدد البنات

ب- أحسب عدد الزهورات.

ج- هل عدد الزهرات على قدر عدد الفتيات ؟

لا

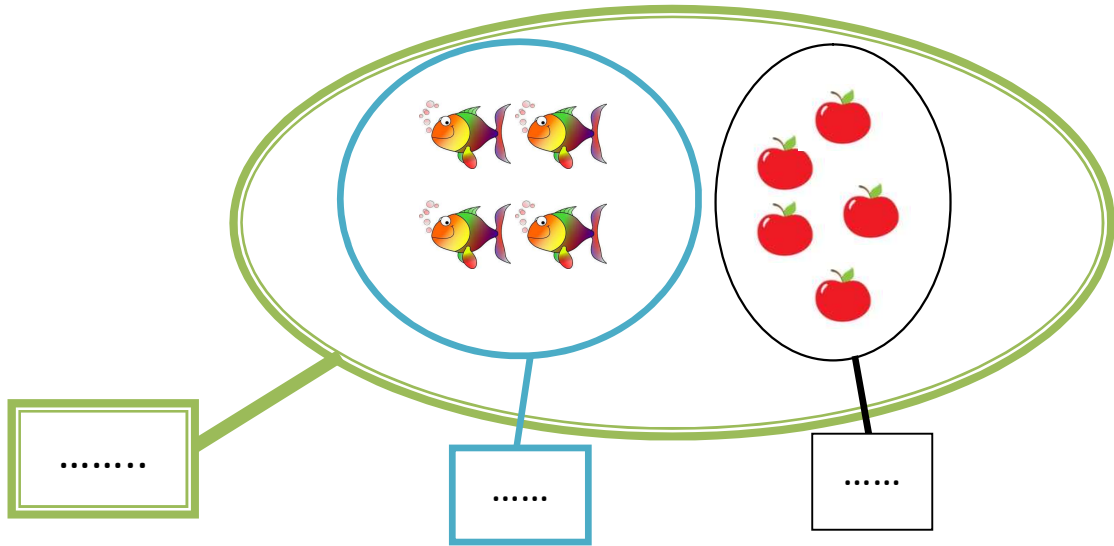
نعم

د- أكمل بـ "أقل" أو "أكثر"

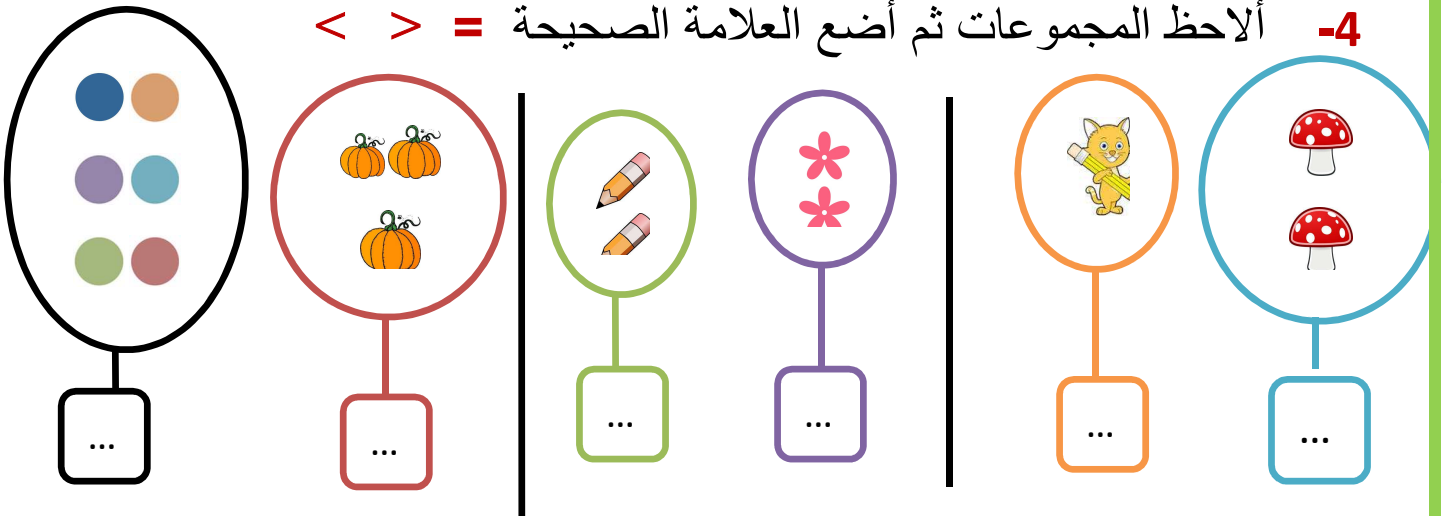
عدد الزهرات من عدد البنات.

عدد البنات من عدد الزهرات.

3- أضع الكَم المناسب ثم أجمع :




4- ألاحظ المجموعات ثم أضع العلامة الصحيحة = < > =



-5 شاهد أحمد حيوانات كثيرة في حديقة الحيوانات . أتأمل المشهد ثم ألَوّن
الإجابة الصحيحة:

-6



■ عدد الفيلة : 7 4 5

■ عدد الأشبال : 9 8 6

■ عدد الدببة : 7 8 1

-7 أرتب الأعداد من الأصغر إلى الأكبر :

