



حساب ذهنيّ - السنة الأولى - السداسي الثاني

أحيط أصغر عدد :	
. 29 - 19 - 82 - 12	1
أضع العلامة المناسبة :	
32 . 23	1
أفكّك إلى الصّيغة القانونيّة	
. + . = 45	0.5
أحسب ذهنيّا	
= 12 + 26	0.5
أكمل بما يناسب :	
	1


حساب ذهنيّ - السنة الأولى - السداسي الثاني

أحيط أصغر عدد :	
. 99 - 11 - 52 - 15	1
أضع العلامة المناسبة :	
45 . 54	1
أفكّك إلى الصّيغة القانونيّة	
. + . = 38	0.5
أحسب ذهنيّا	
= 33 + 44	0.5
أكمل بما يناسب:	
	1

حساب ذهنيّ - السنة الأولى - السداسي الثاني

أحيط أصغر عدد :	
. 19 - 65 - 75 - 98	1
أضع العلامة المناسبة :	
36 . 63	1
أفكّك إلى الصّيغة القانونيّة	
. + . = 81	0.5
أحسب ذهنيّا	
= 28 + 50	0.5
أكمل بما يناسب:	
 56	1

حساب ذهنيّ - السنة الأولى - السداسي الثاني

أحيط أصغر عدد :	
. 84 - 24 - 42 - 55	1
أضع العلامة المناسبة :	
18 . 81	1
أفكّك إلى الصّيغة القانونيّة	
. + . = 58	0.5
أحسب ذهنيّا	
= 33 + 11	0.5
أكمل بما يناسب:	
 . 22 .	1

حساب ذهنيّ - السنة الأولى - السداسي الثاني

أحيط أصغر عدد :	
. 29 - 55 - 57 - 22	1
أضع العلامة المناسبة :	
83 . 38	1
أفكّك إلى الصّيغة القانونيّة	
. + . = 75	0.5
أحسب ذهنيّا	
= 34 + 25	0.5
أكمل بما يناسب :	
 . 33 .	1