

السنة الأولى.

تقييم مكتسبات التلاميذ
الرياضيات

المدرسة
الإبتدائية.....

السند 1

في عطلة الصيف ذهبت العائلة إلى البحر للسباحة.



التعليمية 1: تأمل المشهد:

1. ألون يد الأم اليسرى.

2. أكتب على يمين أو على يسار:


الطفل.....الأم

3. أشطب الخطأ:

سرطان البحر على يمين يسار العائلة.

السند 2:

شاهدت العائلة حيوانات على الشاطئ.



6

4

9

7

التعليمية 2:

1. أحيط مجموعة سرطان البحر بخط مغلق و أربطها بالرمز المناسب.

2. أحيط مجموعة نجم البحر بخط مغلق و أربطها بالرمز المناسب.

3. أكون مجموعة عناصرها أقل من سرطان البحر.



4. أكون مجموعة عناصرها أكثر من نجم البحر.



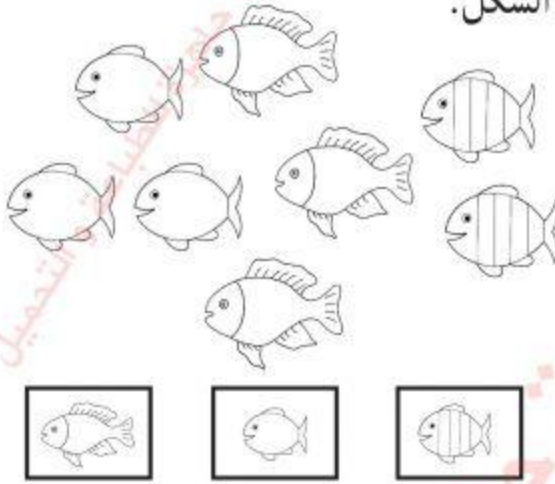
السند 3:

بعد السباحة تناولت العائلة السمك على الشاطئ.


التعليمية 3:

1. أحيط بخط مغلق عناصر السمك التي لها نفس الشكل.

2. أربط مجموعة السمك بالرمز المناسب.



3. ألون السمكة الموجودة على يمين رمزي.



السند 4:

هذه مجموعة الأغذية التي أكلتها العائلة على الشاطئ.

التعليمية 4:

أصنف الأغذية حسب خاصية أختارها.

