

المستوى: السنة الثانية	تقييم مكتسبات التلاميذ	الاسم:
	في نهاية الثلاثي الثالث
	المادة: رياضيات	اللقب:
	

السند 1: نَظَّمَتْ مَدْرَسَتُنَا رِحْلَةً إِلَى مَدِينَةِ تَوَزْر، بَلَغَتْ مَصَارِيفُ الرِّحْلَةِ مَبْلَغًا قَدْرُهُ 869 دِينَارًا.

سَاهَمَ تَلَامِيذُ السَّنَةِ الثَّلَاثَةِ بِمَبْلَغٍ قَدْرُهُ 202 دِينَارًا.
 سَاهَمَ تَلَامِيذُ السَّنَةِ الْأُولَى بِمَبْلَغٍ قَدْرُهُ 346 دِينَارًا، أَمَّا تَلَامِيذُ السَّنَةِ الثَّانِيَةِ
 فَسَاهَمُوا بِ55 دِينَارًا أَكْثَرَ مِنْ مُسَاهَمَةِ تَلَامِيذِ الدَّرَجَةِ الْأُولَى.
 التَّعْلِيمَةُ 1: أَحْسَبُ مِقْدَارَ مُسَاهَمَةِ تَلَامِيذِ السَّنَةِ الثَّانِيَةِ.

.....

التَّعْلِيمَةُ 2: أَحْسَبُ مِقْدَارَ مُسَاهَمَةِ كُلِّ التَّلَامِيذِ.

.....

أَمَّا مُدِيرُ الْمَدْرَسَةِ فَقَدْ سَاهَمَ بِالْمَبْلَغِ النَّاقِصِ
 التَّعْلِيمَةُ 3: أَحْسَبُ مِقْدَارَ مُسَاهَمَةِ مُدِيرِ الْمَدْرَسَةِ.

.....

السند 2: دَفَعَ الْمُشْرِفُ عَلَى الرِّحْلَةِ 452 دِينَارًا مَصَارِيفَ النُّقْلِ وَ 113 دِينَارًا ثَمَنَ
 الْغَدَاءِ

التَّعْلِيمَةُ 1: أَحْسَبُ جُمْلَةَ الْمَصَارِيفِ.

.....

التعلیمة 2: أَحْسُبُ الْمَبْلَغَ الْمُتَبَقِّي.

السند 3: توقفت الحافلة أمام مطعم فنزل المشرف و اقتنى 150 قارورة عصير و عدد علب من الماء المعدني أكثر من قوارير العصير بـ 68 . بلغ ثمنها 45 دينار.
التعلیمة 1: أَحْسُبُ عدد علب الماء المعدني .

ما هو الثمن الجملي للمشتريات ؟

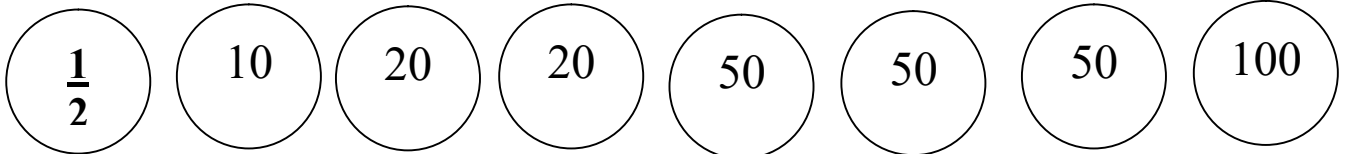
كم بقي من مال لدى مشرف الرحلة ؟

السند 4: افترَح التَّلَامِيذُ شِرَاءَ هَدَايَا لِدَارِ الْمَسْنِينِ بِمَدِينَةِ تَوَزَّرَ بِمَا تَبَقَّى لَدَيْهِمْ مِنْ مَالٍ لَدَى مَشْرِفِ الرَّحْلَةِ ، فَعَرَضَ عَلَيْهِمْ أَحَدُ الْبَاعَةِ الْبَضَائِعَ التَّالِيَةَ:

الْبِضَاعَةُ	الثَّمَنُ (بِالْدِينَارِ)
قوارير عطر	55
ورود	124
مجموعة من الكتب	95

التعلیمة 1: مَاذَا سَيَشْتَرِي التَّلَامِيذُ؟ أَعْلِلْ إِجَابَتِي.

السند 5: أَثْنَاءَ شِرَاءِ الْهَدَايَا، سَقَطَتِ الْقِطْعُ النَّقْدِيَّةُ التَّالِيَةُ مِنْ جَيْبِ سَعَادِ.



فَأَعْطَتْهَا أَخْتُهَا مَدِيحَةَ 275 مَلِيْمًا

التَّعْلِيْمَةُ 1: أَحْسَبُ الْمَبْلَغَ الَّذِي أَضَاعَتْهُ سَعَادُ

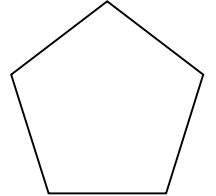
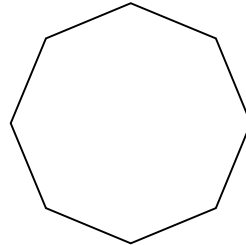
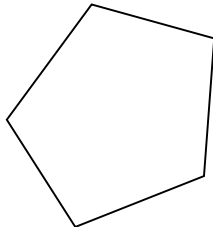
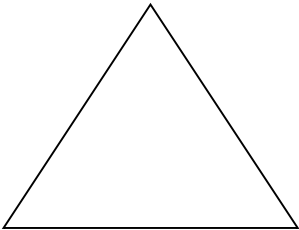
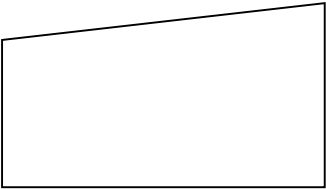
التَّعْلِيْمَةُ 2: أَمْتَلُ الْمَبْلَغَ الَّذِي أَعْطَتْهُ مَدِيحَةُ لِسَعَادِ بِأَقْلٍ عَدَدٍ مُمَكِّنٍ مِنَ الْقِطْعِ النَّقْدِيَّةِ

التَّعْلِيْمَةُ 3: أَرَادَتْ سَعَادُ شِرَاءَ لِعَبْتَيْنِ مِنْ سَوْقِ تَوَزَّرَ ثَمَنَ الْأُوْلَى 165 مِي وَثَمَنَ الثَّانِيَةَ يَاقِلُ عَنِ ثَمَنِ الْأُوْلَى بِ55 مِي . هَلْ تَسْتَطِيْعُ سَعَادُ شِرَاءَ اللَّعْبَتَيْنِ مَعًا ؟

السَّنْدُ 6: عَرْضُ الْبَائِعِ عَلَى الْأَطْفَالِ أَشْكَالًا مُخْتَلِفَةً لِعَلْبِ الْهَدَايَا.

التَّعْلِيْمَةُ 3:

أَلْوَنُ بِالْأَحْمَرِ الْعَلْبَ ثُمَانِيَّةَ الْأَضْلَاعِ
أَلْوَنُ بِالْأَضْفَرِ الْعَلْبَ خَمَاسِيَّةَ الْأَضْلَاعِ



جَدْوَلُ إِسْنَادِ الْأَعْدَادِ

معد	معد	معد	معد	معد	معد	المعايير
0	0	0	0	0	0	مستويات التملك
0	1	1	1	1	1	انعدام التملك
2.5	2	2	2	2	2	دون التملك
5	3	3	3	3	3	التملك لأدنى
						التملك الأقصى